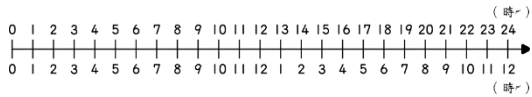


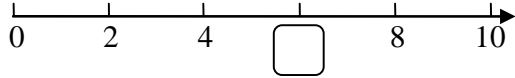
一、選出正確的答案（選擇題）（每題4分，共88分）

1. () 從中午12時開始，經過2小時，是什麼時刻？



- ①上午2時 ②下午2時 ③上午14時 ④下午14時。

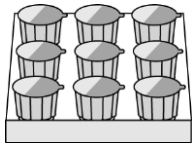
2. () □的位置表示哪一個數？



- ①3 ②5 ③6 ④9。

3. () 1盒巧克力餅乾要賣48元，敏芳買了5盒，要付多少元？ ①220元 ②240元 ③260元 ④280元。

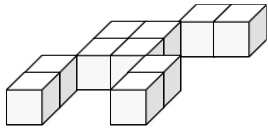
4. () 1盒布丁有9個，分成9等分，1等分是1個，阿明和同學共吃了13個，是吃了幾盒布丁？



- ① $\frac{9}{13}$ 盒 ② $\frac{13}{9}$ 盒 ③9盒 ④13盒。

5. () 個位數字是0、十位數字是3、十分位數字是9的數是 ①3.9 ②9.3 ③30.9 ④93。

6. () 小倩用1公克重的積木排成圖形，下面圖形的重量是多少？



- ①5公克 ②10公克 ③15公克 ④20公克。

7. () 一盒茶杯禮盒裡有2個茶杯，每個茶杯賣30元，小艾買8盒茶杯禮盒，共要花幾元？ ①255元 ②340元 ③480元 ④1020元。


8. () 2020讀作 ①二千二十 ②二千零二 ③二千零二零 ④二千零二十。

9. () 水桶裡裝了5078毫升的水，5078毫升是幾公升幾毫升？ ①507公升8毫升 ②50公升78毫升 ③5公升780毫升 ④5公升78毫升。

10. () 美味糕餅店今天出爐了98個鳳梨酥，每8個裝成一盒，還剩下幾個鳳梨酥？ ①1個 ②2個 ③3個 ④4個。

11. () 10張一千元合起來是多少元？ ①10元 ②1000元 ③1100元 ④10000元。

12. () 下圖是本壘板，用三角板比一比，在這個圖形中可以找出幾個直角？



- ①0個 ②1個 ③2個 ④3個。

13. () 如果「 $56 \div \star = 8$ 」，下面哪一個敘述是錯誤的？

- ① $8 \times \star = 56$ ② $56 \div 8 = \star$ ③ $\star = 7$ ④ \star 是被除數。

14. () 下面常見的物品，哪一個沒有直角呢？ ①窗戶

- ②門 ③數學課本 ④碗。

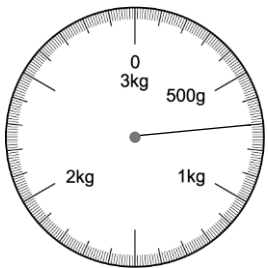
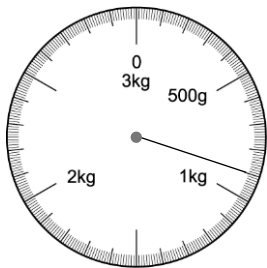
15. () 一輛遊園車可以載7人，車站有1位導遊和103位遊客同時要搭乘，最少要幾輛遊園車才夠？ ①8輛

- ②11輛 ③15輛 ④20輛。

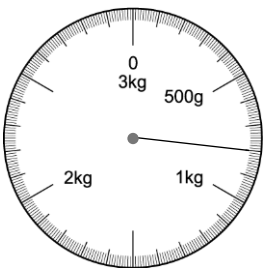
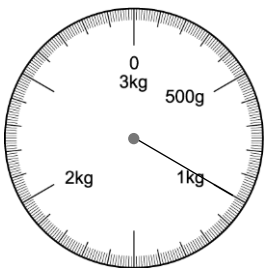
16. () 下圖是將一罐醬油放在磅秤上顯示的重量，如果再放一罐相同的醬油，2罐醬油顯示的數值何者正確？



- ① ② ③



- ④



17. () 觀察圖案的規律，下一個圖案要用到幾根火柴棒？

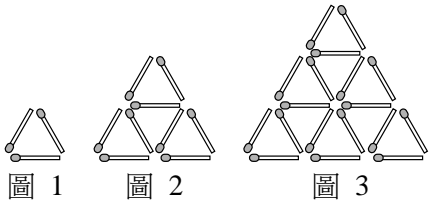
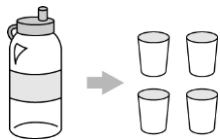


圖1 圖2 圖3 圖4

- ①18根 ②24根 ③30根 ④36根。

18. () 1瓶水平分成4等分，1等分是1杯，哥哥和同學

喝了 $\frac{3}{4}$ 瓶，還剩下幾杯水？



- ①1杯 ②3杯 ③ $\frac{1}{4}$ 杯 ④ $\frac{3}{4}$ 杯。

19. () 啾西果汁店今天共賣出 12 公升 350 毫升的木瓜牛奶，西瓜牛奶比木瓜牛奶少賣 1 公升 50 毫升，香蕉牛奶比西瓜牛奶多賣 650 毫升，啾西果汁店今天共賣出多少香蕉牛奶？ ① 10 公升 650 毫升 ② 11 公升 300 毫升 ③ 11 公升 950 毫升 ④ 12 公升 600 毫升。
20. () 有一個四位數比 7000 小，這個數的千位數字最小可能是多少？ ① 0 ② 1 ③ 7 ④ 8。
21. () 小蝸牛爬牆，第一天往上爬了 1.6 公尺，沒有滑下來，第二天又往上爬了 2.3 公尺，沒有滑下來，兩天共往上爬了幾公尺？是 1 個 1 公尺和幾個 0.1 公尺合起來的？ ① 3.9 公尺，26 個 ② 3.9 公尺，27 個 ③ 3.9 公尺，28 個 ④ 3.9 公尺，29 個。
22. () 約翰叔叔的寵物用品店開幕當天，準備了 1688 份禮物要送給客人，只要有消費的客人就可以領取 1 份，禮物發送完後，還有 412 個客人沒有拿到，開幕當天有幾個客人到店裡消費？ ① 2100 個客人 ② 2000 個客人 ③ 1688 個客人 ④ 1276 個客人。

二、閱讀測驗（每格 4 分，共 12 分）

1. 閱讀文章後，回答問題，先用算式記下來，再用直式算算看。

大雄一家人在炎炎夏日到山上露營。中午抵達營地時，天氣非常舒適，氣溫是 23.5 度，沒想到下午 4 時開始起霧，大家開始感到些許涼意，原來這時的氣溫只剩下 17.2 度。爸爸開始煮今日特製的蛋蛋晚餐，共用掉 1.5 盒雞蛋，帶來的雞蛋還剩下 1.5 盒。在爸爸準備晚餐時，大雄和妹妹忙著用長長的燈串布置帳篷，燈串長 13.6 公尺，繞完正方形帳篷周圍一圈後，把剩下的 1.6 公尺繞在旁邊的樹枝上。

(1) 從中午到下午 4 時，溫度共下降幾度？

(2) 爸爸原來帶了幾盒雞蛋？

(3) 繞正方形帳篷一圈要用掉多少公尺？